

MATA UJIAN : Matematika, B. Indonesia, B. Inggris, IPA dan IPS
 TANGGAL UJIAN : 20 November 2017
 WAKTU : 150 Menit
 JUMLAH SOAL : 90 Soal

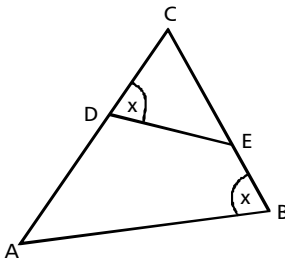
Keterangan:

Mata Ujian Matematika	dari nomor 01 sampai dengan nomor 20
Mata Ujian B. Indonesia	dari nomor 21 sampai dengan nomor 30
Mata Ujian B. Inggris	dari nomor 31 sampai dengan nomor 40
Mata Ujian IPA (Ilmu Pengetahuan Alam)	dari nomor 41 sampai dengan nomor 60
Mata Ujian IPS (Ilmu Pengetahuan Sosial)	dari nomor 61 sampai dengan nomor 90

MATEMATIKA

Petunjuk A: dipergunakan dalam menjawab soal nomor 01 sampai dengan nomor 15.

01. Perhatikan gambar!

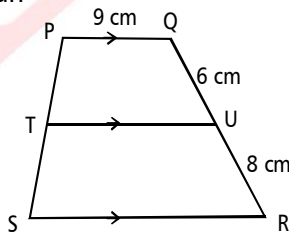


Diketahui panjang $AB = 12$ cm, $CD = 7$ cm, $AD = 8$ cm, dan $DE = 8$ cm. maka Panjang CE adalah

- (A) 10 cm
- (B) 8 cm
- (C) 7 cm
- (D) 6 cm

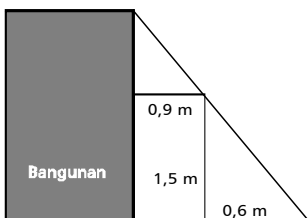
02. Perhatikan gambar berikut!

Trapezium PQUT sebangun dengan TURS. Panjang SR adalah



- (A) 18 cm
- (B) 17 cm
- (C) 16 cm
- (D) 15 cm

03. Perhatikan gambar berikut!



Sebuah tangga bersandar pada sebuah bangunan dan menyentuh sebuah balok. Jarak bangunan dan kaki tangga adalah 1,5 m. lebar balok 90 cm, dan tinggi balok 150 cm. maka tinggi bangunan tersebut adalah.

- (A) 2,50 m
- (B) 3,25 m
- (C) 3,50 m
- (D) 3,75 m

04. Sebuah kerucut mempunyai volume 24 cm³. Jika diameter kerucut tersebut diperbesar 2 kali dan tingginya diperbesar 3 kali, maka volume kerucut yang baru adalah

- (A) 144 cm³
- (B) 288 cm³
- (C) 576 cm³
- (D) 864 cm³

05. Budi memiliki sebuah drum berdiameter 35 cm dan tinggi 0,75 m, berisi penuh dengan minyak pelumas. Minyak pelumas tersebut akan dikemas kedalam kaleng-kaleng yang berdiameter 10,5 cm dan tinggi 20 cm. jika harga kaleng kemasan tersebut Rp1.200,00 per buah. Maka biaya yang harus dikeluarkan Budi adalah

- (A) Rp45.000,00
- (B) Rp50.000,00
- (C) Rp55.000,00
- (D) Rp60.000,00

06. Sebuah gedung dindingnya berbentuk tabung dengan atap kubah setengah bola. Luas lantai gedung adalah 154 m² dengan tinggi dinding 4 m. pemilik gedung ingin merubah warna cat bagian dalam gedung dan bagian atap dengan warna modern. Biaya pengecatan dinding adalah Rp100.000/m² dan biaya pengecatan kubah Rp200.000/m². Total biaya yang diperlukan untuk melakukan pengecatan adalah

- (A) Rp123.200.000,00
- (B) Rp277.200.000,00
- (C) Rp279.000.000,00
- (D) Rp282.200.000,00

07. Nilai remedial ulangan harian matematika sebagai berikut!

60, 70, 50, 60, 80, 50, 75, 80, 70, 75, 70, 90, 60, 75, 70

Modus dan rata-rata nilai tersebut adalah .

- (A) 60 dan 69
- (B) 60 dan 68
- (C) 70 dan 69
- (D) 70 dan 68

08. Pengukuran berat badan siswa kelas IX (diukur sampai kilogram terdekat) adalah sebagai berikut.

BB (Kg)	39	40	41	42	43	44	45
Frek	5	2	3	1	x	5	1

Jika rata-rata berat badan siswa kelas IX adalah 42 kg, maka median berat badan siswa kelas IX adalah

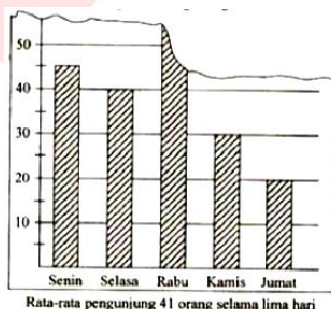
- (A) 43, 5 kg
- (B) 43 kg
- (C) 42,5 kg
- (D) 42 kg

09. Diketahui rata-rata tinggi siswa kelas IX yang terdiri atas 36 orang adalah 150 cm, jika rata-rata tinggi siswa perempuan 148 cm, dan rata-rata tinggi siswa laki-laki 154 cm. Maka selisih antara banyaknya siswa perempuan dengan siswa laki-laki adalah

- (A) 10
- (B) 11
- (C) 12
- (D) 13

10. "Pengunjung Perpustakaan"

Suatu hari Ani menemukan sobekan koran yang memuat data pengunjung perpustakaan berupa gambar diagram batang sebagai berikut.

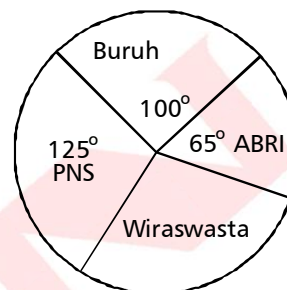


Informasi yang ada pada koran tersebut menunjukkan data pengunjung perpustakaan selama 5 hari. Ani penasaran ingin tahu tentang banyak pengunjung pada hari Rabu. Tolong bantu Ani, berapa banyak pengunjung pada hari Rabu?

- (A) 55 orang
- (B) 60 orang
- (C) 65 orang
- (D) 70 orang

11. Perhatikan diagram berikut!

Diagram samping menggambarkan pekerjaan orang tua siswa di sebuah sekolah. Jika banyak orang tua siswa yang berkerja sebagai PNS ada 75 orang, banyak orang tua yang bekerja sebagai wiraswasta adalah



- (A) 32 orang
- (B) 35 orang
- (C) 42 orang
- (D) 70 orang

12. 5 buah koin ditos secara bersama-sama satu kali. Banyak ruang sampel untuk kejadian muncul 3 sisi Angka dan 2 sisi Gambar adalah

- (A) 10
- (B) 8
- (C) 6
- (D) 5

13. Dua buah dadu dilempar bersama-sama sebanyak 180 kali. Frekuensi harapan muncul kedua mata dadu berjumlah lebih dari 9 adalah

- (A) 20
- (B) 27
- (C) 30
- (D) 32

14. Dari seperangkat kartu bridge diambil satu kartu secara acak, peluang muncul satu kartu merah atau As adalah

- (A) $\frac{30}{52}$
- (B) $\frac{29}{52}$
- (C) $\frac{28}{52}$
- (D) $\frac{27}{52}$

15. Dari 40 siswa kelas IX A, terdapat 20 orang gemar pelajaran MTK dan 18 orang gemar pelajaran IPA, serta 7 orang tidak gemar keduanya. Jika wali kelas memanggil satu anak ke ruang guru, maka peluang yang dipanggil siswa yang hanya gemar pelajaran MTK saja adalah

- (A) 25%
- (B) 37,5%
- (C) 50%
- (D) 62,5%

BAHASA INDONESIA

Petunjuk A: dipergunakan dalam menjawab soal nomor 16 sampai dengan nomor 25.

16. Pengelola Taman Mini Indonesia Indah (TMII) memperkirakan sebanyak 400 ribu pengunjung hadir menjelang Tahun Baru 2009. Perkiraan ini dirasa tidak berlebihan mengingat membludaknya pengunjung pada tahun lalu, Sebagai daya tarik pengunjung, pengelola menyiapkan berbagai acara hiburan dengan tema "Pesta Rakyat", di antaranya pesta kembang api.

Gagasan utama paragraf tersebut adalah

- (A) pesta kembang api di TMII
- (B) membludaknya pengunjung TMII
- (C) perkiraan jumlah pengunjung TMII
- (D) daya tarik pengelola TMII

17. (1) Perayaan Tahun Baru yang berlangsung meriah di Jakarta meninggalkan sejumlah persoalan. (2) Satu di antaranya persoalan tersebut adalah rusaknya sejumlah taman kota di Jakarta. (3) Kerusakan taman seperti ini terlihat di kawasan Monumen Nasional (Monas) Jakarta. (4) Hampir semua tanaman hias yang berada di area tersebut rusak akibat terinjak-injak ribuan pengunjung.

Kalimat utama paragraf tersebut ditandai dengan nomor

- (A) (1)
- (B) (2)
- (C) (3)
- (D) (4)

18. Pemerintah ingin tetap konsekuen menyesuaikan harga bahan bakar minyak (BBM). Bila harga BBM di tingkat internasional menurun. Pemerintah baru akan mengambil kebijakan menurunkan harga BBM bersubsidi di dalam negeri sesuai tingkat yang wajar. Langkah ini ditempuh untuk meringankan beban masyarakat.

Kritik terhadap isi paragraf tersebut adalah

- (A) Sudah kewajiban pemerintah untuk menurunkan harga
- (B) Pemerintah harus konsekuen menurunkan harga
- (C) Pemerintah tak perlu menunggu untuk menurunkan harga
- (D) Sudah sewajarnya pemerintah menurunkan harga

19. Usaha manajemen Sriwijaya FC (SFC) untuk mendapatkan striker Budi Sudarsono tinggal selangkah lagi. Kesepakatan harga sudah dicapai, tinggal menunggu tanda tangan kontrak. Budi akan dikontrak selama setengah musim atau hingga putaran kedua Liga Super berakhir. Meskipun demikian, manajemen SFC tidak akan melakukan pencoretan nama pemain lama.

Informasi yang merupakan isi teks berita tersebut adalah

- (A) Manajemen SFC mendapatkan Budi Sudarsono
- (B) Harga kontrak tidak disepakati SFC dan Budi Sudarsono
- (C) Budi Sudarsono akan dikontrak SFC setengah musim
- (D) Budi Sudarsono telah menandatangani kontrak dengan SFC

20. (1) Udara di Bogor terasa dingin. (2) Kali ini dinginnya melebihi hari-hari sebelumnya. (3) Dinginnya suhu udara di Bogor mencapai 24 derajat celcius, (4) Data tingkat suhu udara ini, terdapat di papan informasi pengukur suhu di jalan-jalan besar di kota Bogor.

Dua kalimat pendapat pada teks tersebut ditandai dengan nomor

- (A) (1) dan (2)
- (B) (1) dan (3)
- (C) (2) dan (3)
- (D) (2) dan (4)

21. Pada umumnya, sakit tenggorokan disebabkan oleh virus. Biasanya, terkait dengan tanda-tanda penyakit saluran napas lainnya, seperti hidung tersumbat atau batuk. Kebanyakan sakit tenggorokan dapat sembuh dengan sendirinya. Namun, untuk membantu agar lebih nyaman ketika sakit, dapat dilakukan dengan minum air hangat yang diberi air perasan jeruk lemon dan madu.

Simpulan paragraf tersebut yang tepat adalah

- (A) Penyakit tenggorokan disebabkan kebanyakan virus.
- (B) Tanda-tanda penyakit tenggorokan adalah hidung tersumbat.
- (C) Usaha meringankan rasa sakit ketika menderita sakit tenggorokan.
- (D) Sakit tenggorokan dapat dikurangi dengan minum air perasan jeruk lemon.

22. Pemerintah kembali menurunkan bahan (BBM) terutama jenis premium. Bersamaan dengan penurunan harga premium untuk kedua kalinya, harga bahan bakar jenis solar pun di turunkan. Harga minyak dunia yang terus merosot mendorong munculnya kebijakan penurunan BBM. Kalangan industri mestinya sudah bisa menghitung kembali biaya produksi yang berujung pada penurunan harga. Apalagi, harga bahan bakar industri pun mengalami hal yang sama. Dengan turunnya harga premium dan solar, diharapkan harga kebutuhan pokok ikut turun. Dengan demikian, daya beli publik terangkai, diikuti peningkatan konsumsi yang mendorong peningkatan produksi. Hal itu mampu memperkecil peluang terjadinya pemutusan hubungan kerja (PHK).
Gagasan utama tajuk tersebut adalah
- (A) penurunan harga BBM hendaknya diikuti harga kebutuhan pokok
 - (B) penurunan harga premium diikuti solar dan pertamax
 - (C) kebutuhan pokok tergantung jenis BBM yang digunakan
 - (D) turunnya BBM meningkatkan produksi dalam negeri
23. Penulisan pada kutipan tajuk tersebut ditujukan kepada
- (A) pemerintah
 - (B) pengusaha
 - (C) produsen
 - (D) pekerja
24. Simpulan isi tajuk tersebut adalah
- (A) Biaya produksi yang menurun tidak diikuti harga solar.
 - (B) Penurunan harga premium diikuti harga kebutuhan
 - (C) Harga minyak dunia yang turun tidak diikuti pemerintah
 - (D) Konsekuensi penurunan harga BBM mampu memperkecil PHK
25. Wahai sahabat
Untuk selamanya
Kita percaya
Tebarkan arah jangan pernah lelah
Untukmu sahabat
....
Tema puisi tersebut adalah
- (A) Persahabatan
 - (B) Perdamaian
 - (C) Kelelahan
 - (D) Kepercayaan

BAHASA INGGRIS

Text for number 26-28

People can do a lot about the condition in which they live. They should refrigerate food properly when necessary and they should not leave food lying around because it may attract insects and rats. To avoid these pests, the proper care of garbage is also very important. Careful housekeeping is extremely important to sanitation and good health. People should keep all parts of the house neat and clean. They should scrub bathrooms and kitchens often.

- 26. The topic of the text is about ____ .
(A) The problem of insects
(B) Healthy conditions at home
(C) The danger of insects and rats
(D) The importance of clean bathrooms
- 27. The main idea of the paragraph is ____ .
(A) We should clean and scrub the floor everyday
(B) Rats and garbage are the main causes of disease
(C) Rats and insects must be kept away from the house
(D) Healthy conditions are very important for our health
- 28. "To avoid these pests, the proper care of garbage is also very important."
The followings are synonymous with the underlined word, except ____ .
(A) Establish (C) Evade
(B) Elude (D) Eschew

Text for number 29-31

URGENTLY NEEDED

JUNIOR EDITOR
(English, Japanese, Science)

- Female/male, graduated from a reputable university
- Max. 27 years old
- Min. 1 year of work experience
- Good command of the selected subject
- Computer literate

Please submit your complete application, resume, and recent photography no more than two weeks after this ad to:

HRD PT. ELDANISHA PUBLISHING AND PRINTING
PO BOX 1319
DEPOK 16431

- 29. What is the advertisement about?
(A) A job description
(B) A publishing and printing company
(C) A product ad
(D) A job vacancy

- 30. Which of the following candidates that might be listed?
(A) A 28 year-old man majoring in Physics
(B) A 25 year-old woman majoring in Animal Husbandry
(C) A fresh graduated majoring in English
(D) A 27 year-old man majoring in Japanese
- 31. In order to apply for the position, you must send the following data, except ____ .
(A) Your CV
(B) Your latest photograph
(C) Your report card
(D) Your complete application
- 32. Kipli : "Nobody here can buy the newest version of this laptop. It's ____ expensive for us."
Saprol : "I know, but remember we badly need it, don't we?"
Kipli : "Right, but let's try to get the cheap one."
(A) Rather (C) Fairly
(B) Too (D) A bit
- 33. Isco : "Madrid is a lovely city, ... "
Ronaldo : "Yes, but I prefer Manchester."
(A) Is it? (C) Isn't it?
(B) Does it? (D) Doesn't it?
- 34. What is not correct according to the following caution?

STOP USE AND CONSULT WITH A DOCTOR IF RASH OR IRRITATION DEVELOPS

- (A) The product may cause rash or irritation
- (B) Some people may be allergic with the product
- (C) We cannot stop using the product even when rash develops
- (D) We must consult our doctor if we develop irritation

CAUTION

This fountain is not meant for wading and the water is not suitable for drinking. With conservation in mind, the fountain continuously re-circulates water.

Please use caution while enjoying this fountain. Stay off wetted surfaces and away from edges.

- The caution means ____ .
- (A) we should stay near the wetted surfaces
 - (B) The water is clean and fresh to drink
 - (C) We should not drink the water
 - (D) The fountain is not for re-circulating water

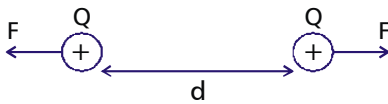
IPA (Ilmu Pengetahuan Alam)

Petunjuk A: dipergunakan dalam menjawab soal nomor 36 sampai dengan nomor 55.

36. Sebuah kaca digosok dengan kain sutra, kemudian didekatkan pada sebuah penggaris plastik yang digosok dengan kain wol, maka

	Interaksi jika didekatkan	Kaca	Penggaris
(A)	Tolak-menolak	Bermuatan positif	Bermuatan negatif
(B)	Tarik-menarik	Bermuatan positif	Bermuatan negatif
(C)	Tolak-menolak	Bermuatan negatif	Bermuatan positif
(D)	Tarik-menarik	Bermuatan negatif	Bermuatan positif

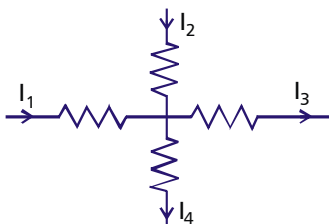
37. Gambar berikut menunjukkan gaya tolak-menolak antara dua benda titik bermuatan listrik.



Besar gaya tolak menolak kedua benda tersebut, jika muatan listrik diganti menjadi +2Q dan +3Q dan jarak kedua benda menjadi 2d adalah

- (A) $\frac{1}{2}F$
 - (B) $\frac{2}{3}F$
 - (C) $\frac{3}{2}F$
 - (D) 2F
 - (E) 4F
38. Suatu kawat dialiri arus listrik sebesar 500 mA, besarnya muatan listrik yang mengalir pada kawat tersebut selama 2 menit adalah
- (A) 30 C
 - (B) 60 C
 - (C) 90 C
 - (D) 120 C

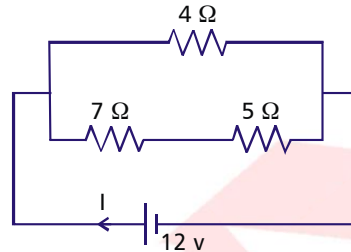
39. Perhatikan rangkaian di bawah.



Jika $I_1 = 4 \text{ A}$, $I_2 = 6 \text{ A}$, dan $I_3 = 7 \text{ A}$, maka besar kuat arus I_4 adalah

- (A) 3 A
- (B) 4 A
- (C) 5 A
- (D) 6 A

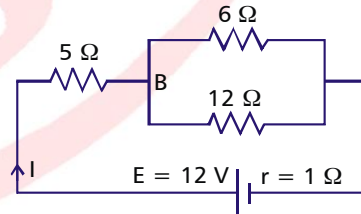
40. Perhatikan gambar rangkaian berikut!



Besar kuat arus I yang mengalir pada rangkaian listrik adalah

- (A) 3 A
- (B) 4 A
- (C) 5 A
- (D) 6 A

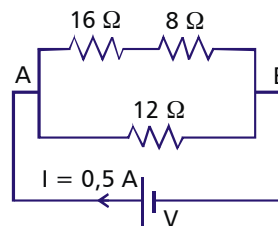
41. Perhatikan gambar rangkaian berikut!



Besar kuat arus I yang mengalir pada rangkaian adalah

- (A) 1,2 A
- (B) 2,0 A
- (C) 2,4 A
- (D) 3,0 A
- (E) 3,6 A

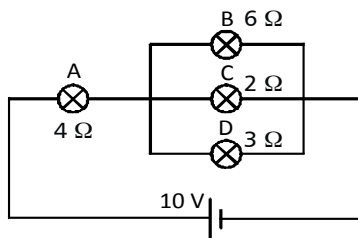
42. Perhatikan gambar rangkaian berikut!



Besar beda potensial antara titik A dan B adalah

- (A) 4 Volt
- (B) 6 Volt
- (C) 8 Volt
- (D) 12 Volt

43. Empat buah lampu disusun seperti pada gambar berikut!



Urutan lampu yang menyala paling terang sampai ke yang paling redup adalah

- (A) A – B – C – D
(B) A – C – D – B
(C) B – A – D – C
(D) C – D – A – B
44. Sebuah rumah menggunakan peralatan listrik seperti tercantum pada tabel berikut.

No	Alat listrik	Jumlah	Waktu penggunaan
1	Lampu 10 W	4	10 jam/hari
2	TV 100 W	1	10 jam /hari
3	Setrika 300 W	1	2 jam /hari

Berapa besar energi listrik yang digunakan selama 1 bulan (30 hari)?

- (A) 120 kWh (D) 40 kWh
(B) 60 kWh (E) 20 kWh
45. Sebuah rumah menggunakan alat-alat listrik sehari-hari sebagai berikut:

Alat listrik	Jumlah	Daya	Waktu penggunaan
Lampu pijar	5	20 watt	12 jam/hari
Lampu neon (TL)	6	10 watt	10 jam /hari
Televisi	1	80 watt	10 jam/hari

Jika biaya listrik Rp 1.500,00 per kWh, maka biaya rekening listrik yang harus dibayar dalam 1 bulan (30 hari) adalah

- (A) Rp 219.000,00
(B) Rp 117.000,00
(C) Rp 78.000,00
(D) Rp 39.000,00
46. Perhatikan pernyataan berikut:
1. Cicak melakukan autotomi
 2. Paruh burung elang tajam, runcing dan kuat
 3. Bunglon dapat merubah warna kulit
 4. Pencernaan herbivor memiliki enzim selulase

Adaptasi morfologi dan fisiologi adalah

- (A) 1 dan 2 (C) 2 dan 4
(B) 2 dan 3 (D) 3 dan 4

47. Lumba-lumba merupakan mamalia air yang bernapas menggunakan paru-paru dan secara periodik akan muncul ke permukaan untuk menghirup oksigen. Adaptasi yang dilakukan adalah

- (A) organ respirasi (C) morfologi
(B) tingkah laku (D) fisiologi

48. Seorang siswa bertubuh tinggi dan berambut keriting. Sifat tersebut dinamakan

- (A) fenotip (C) heterozigot
(B) homozigot (D) genotip

49. Jika suatu individu bergenotip BbMm, maka macam gametnya adalah

- (A) 1 macam (C) 3 macam
(B) 2 macam (D) 4 macam

50. Persilangan bunga mawar merah dengan bunga mawar putih menghasilkan keturunan bunga mawar merah muda. Hal tersebut termasuk ke dalam persilangan

- (A) monohibrid dominan
(B) monohibrid intermediet
(C) dihibrid
(D) heterozigot

51. Persilangan mangga berbuah manis dan berbatang tinggi (MMTT) dengan mangga berbuah asam dan berbatang pendek (mmtt) dihasilkan F1 semua mangga berbuah manis berbatang tinggi (MmTt). Jika pada F2 dihasilkan 80 pohon, maka pohon mangga manis dan berbatang pendek sebanyak ...

- (A) 5 (C) 45
(B) 15 (D) 80

52. Memperbanyak jumlah tanaman dalam waktu cepat dan seragam dapat dilakukan dengan memanfaatkan sifat totipotensi sel tanaman melalui teknologi reproduksi, yaitu ...

- (A) rekombinasi gen (C) hidroponik
(B) transgenik (D) kultur jaringan

53. Penggunaan bakteri *Lactobacillus* sp, terdapat pada pembuatan

- (A) Yogurt (C) Tape
(B) Tempe (D) Nata de coco

54. Karakteristik bioteknologi konvensional adalah

- (A) rekayasa genetik (C) fermentasi
(B) peralatan canggih (D) biaya mahal

55. Produk bioteknologi modern yang digunakan untuk pengobatan penyakit diabetes adalah ...

- (A) antibodi monoklonal
(B) insulin DNA rekombinan
(C) vaksin
(D) antibiotik

IPS (Ilmu Pengetahuan Sosial)

Petunjuk A: *dipergunakan dalam menjawab soal nomor 56 sampai dengan nomor 75.*

56. Sewa guna (leasing) melayani pengusaha yang membutuhkan
(A) Modal (B) perlengkapan
(C) Peralatan (D) tenaga kerja
57. Pak Udin adalah seorang pengusaha yang pabriknya terbakar. Akan tetapi dia tidak banyak menderita kerugian karena perusahaannya telah dipertanggungjawabkan di lembaga
(A) Asuransi (C) Leasing
(B) Pegadaian (D) PT. Taspen
58. Salah satu faktor yang mendorong terjadinya perdagangan internasional adalah
(A) Suatu negara tidak dapat memenuhi kebutuhannya sendiri
(B) Suatu negara mempunyai kebutuhan yang berbeda
(C) Suatu negara berlomba memiliki produk terbaik
(D) Suatu negara ingin bersaing dengan dalam perdagangan internasional
59. Pendapatan yang diperoleh suatu negara sebagai akibat adanya kegiatan ekspor disebut
(A) Kurs (B) Devisa
(C) Valuta (D) Grant
60. Di bawah ini adalah manfaat dilaksanakannya kegiatan perdagangan internasional, *kecuali*
(A) Menambah devisa negara
(B) Terjadi perluasan pasar
(C) Terjadi monopoli
(D) Terpenuhinya kebutuhan dalam negeri
61. Barang-barang impor yang didatangkan dari luar negeri untuk memenuhi kebutuhan dalam negeri terutama ditujukan untuk
(A) memenuhi kebutuhan dalam negeri akan barang-barang konsumsi
(B) mengganti produksi dalam negeri yang mutunya kurang baik
(C) menunjang industri dalam negeri dan pembangunan
(D) memenuhi kebutuhan masyarakat akan barang-barang impor
62. Masalah utama yang menyebabkan terjadinya perbedaan tingkat kemakmuran antar lingkungan hidup manusia adalah
(A) pendayagunaan kemampuan sumber daya ekonomi
(B) kegiatan ekonomi antarwilayah
(C) keterikatan penduduk dan adat tradisional
(D) komunikasi dan perhubungan penduduk
63. Salah satu pendorong timbulnya kegiatan ekonomi antarnegara adalah
(A) perbedaan jenis kebutuhan, pengetahuan, dan teknologi
(B) perbedaan peradaban dan kultur
(C) terciptanya komunikasi dan kerja sama
(D) taraf hidup masyarakat yang berbeda-beda
64. Dalam hubungan perdagangan antarnegara, pemerintah Indonesia menganut politik bebas aktif yang berarti
(A) pemerintah mengatur perdagangan antarnegara
(B) pemerintah tidak campur tangan dalam perdagangan antarnegara
(C) negara lain bebas berdagang dengan Indonesia
(D) Indonesia bebas berdagang dengan negara lain tanpa ikatan
65. Untuk melindungi industri dalam negeri terhadap produk barang impor yang harganya lebih murah dan mutunya lebih baik, pemerintah melakukan
(A) proteksionisme
(B) kuota
(C) penetapan tarif
(D) dumping
66. Tidak berlakunya UUDS 1950 dan berlakunya kembali UUD 1945 merupakan salah satu point dari
(A) Kasimo Plan
(B) Gerakan Ekonomi Banteng
(C) Tritura
(D) Dekrit Presiden 5 Juli 1959
67. Alasan pemerintah Indonesia keluar dari PBB tahun 1965 adalah
(A) PBB tidak bersikap netral dalam konflik di Irian Barat
(B) Kegagalan politik luar negeri bebas aktif
(C) Malaysia dikeluarkan dari anggota PBB
(D) Malaysia menjadi anggota tidak tetap Dewan Keamanan PBB

68. Negara Indonesia pernah beberapa kali berganti sistem pemerintahan, seperti Demokrasi Liberal, Demokrasi Terpimpin dan Demokrasi Pancasila. Dalam Kabinet Parlementer, Perdana Menteri dan kabinetnya bertanggung jawab kepada
- MPRS
 - MPR
 - Parlemen
 - DPA
69. Setelah Indonesia kembali menjadi NKRI dan di bubarkannya RIS, maka undang-undang yang di gunakan adalah
- UUD 1945
 - UUD RIS
 - UUDS 1950
 - UUD 1945 yang diamandemen
70. Berikut ini penyimpangan terhadap UUD 1945 dalam masa Demokrasi Terpimpin, *kecuali*
- Presiden menjadi kepala negara
 - Presiden diangkat seumur hidup
 - Pembubaran DPR oleh Presiden
 - Kedudukan Presiden diatas ketua MPR
71. Perubahan sosial di kota terjadi lebih cepat dibandingkan dengan di desa. Hal ini terjadi karena di kota
- Penduduknya homogen
 - Cepat menerima pengaruh luar
 - Mobilitas sosial kecil
 - Keyakinan agamanya berlainan
72. Salah satu faktor dari luar yang menyebabkan perubahan sosial budaya adalah
- Konflik dan revolusi sosial
 - Perubahan jumlah penduduk
 - Perubahan lingkungan alam
 - Pergeseran nilai dan norma masyarakat
73. Perubahan yang bersifat progress adalah perubahan yang
- Membawa kemunduran
 - Membawa keuntungan
 - Menuju perilaku ala masyarakat Barat
 - Tidak dikehendaki dan tidak direncanakan
74. Berikut ini contoh perubahan yang direncanakan, yakni
- Revolusi industri
 - Mode pakaian
 - Pembangunan desa
 - Evolusi masyarakat
75. Di bawah ini terdapat faktor pendorong yang dapat menyebabkan terjadinya perubahan budaya, yaitu
- Pemberontakan
 - Penemuan baru
 - Perubahan demografi
 - Kontak dengan kelompok lain